

1. *Escribe el nombre de cada número.*

12. _____ 25. _____

21 _____ 43 _____

18 _____ 55 _____

29 _____ 36 _____

2. *Anterior y posterior.*

- 41 -

- 15 -

- 30 -

- 49 -

- 27 -

- 19 -

- 56 -

- 10 -

- 38 -

3. *Ordena:*

-De mayor a menor los siguientes números.

45-5-20-58-29 > > > >

-De menor a mayor los siguientes números.

38-17-4-40-19 < < < <

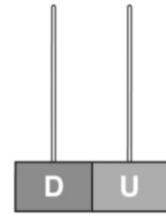

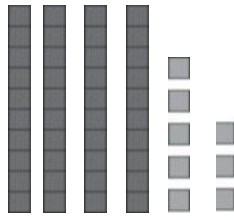

4. *Sigue las series.*

• Suma 10. 30- _____ - _____ - _____ - _____ - _____ - _____

• Suma 2. 42- _____ - _____ - _____ - _____ - _____ - _____

• Suma 3. 20- _____ - _____ - _____ - _____ - _____ - _____

5. ¿Qué número es? Cuenta y escribe. En el ábaco dibuja el número.



25

D	U

D	U

D	U

6. Calcula.

$10 + 30 = \underline{\quad}$
 $20 + 30 = \underline{\quad}$
 $40 + 10 = \underline{\quad}$
 $50 + 10 = \underline{\quad}$

$60 - 10 = \underline{\quad}$
 $50 - 30 = \underline{\quad}$
 $40 - 20 = \underline{\quad}$
 $20 - 20 = \underline{\quad}$


7. Coloca los números y suma.

$32 + 13$

$53 + 5$

$41 + 16$

$27 + 30$



8. Lee y resuelve.

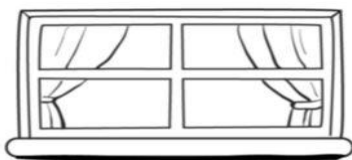
- Berta tiene 3 pulseras rojas, Martín 8 amarillas e Ismael 2 de color marrón. ¿Cuántas pulseras tienen en total?

DATOS	OPERACIÓN	SOLUCIÓN

- Ismael tiene 23 camiones y 6 coches más que camiones. ¿Cuántos coches tiene en total?


DATOS	OPERACIÓN	SOLUCIÓN

9. ¿Cuánto crees que mide cada objeto? Une.



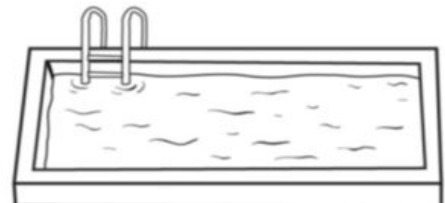
4 palmos

10 palmos



20 pasos

5 pasos



Coge tu regla o un metro de casa y a ver cuánto mide este lápiz.

0



Mide = _____ centímetros