


















ACERTIJOS VISUALES ¿CUÁNTO VALE CADA FRUTA?




 +  = 2
 +  = 3
 +  +  = 5








Soluciones

 =
 =
 =




 +  = 4
 +  = 3
 +  +  = 6








Soluciones

 =
 =
 =




 +  = 6
 +  = 4
 +  +  = 9








Soluciones

 =
 =
 =




 +  = 10
 +  = 8
 +  +  = 10








Soluciones

 =
 =
 =




 +  = 8
 +  = 10
 +  +  = 12









Soluciones

 =
 =
 =

 +  = 6
 +  = 9
 +  +  = 12

Soluciones

 =
 =
 =

 +  +  = 10
 +  = 3
 +  +  = 3

Soluciones

 =
 =
 =

Paco ha echado en sus sacos manzanas Golden, Fuji, Gala y Pink Lady. Averigua cuántas manzanas tiene cada saco.

100
20
3

200
40
5

300
30
3

40
100
8

9
400
90

6
60
100

40
2
40

50
3
50

200
30
100

400
20
100
2

600
50
4

400
100
50
6

300
20
30
4

400
20
100
8

8
200
30
100

20
200
10
100

800
20
6

10
100
20
3

200
50
7
1

3
300
40
1