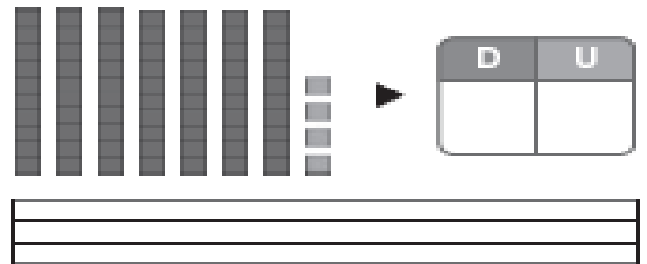
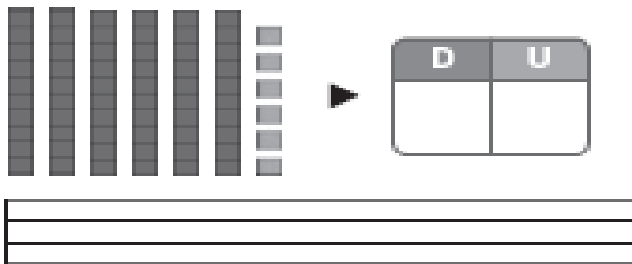


1 ¿Qué número es? Completa y escribe cómo se lee.



2 Compara y escribe $>$ o $<$.

$66 \circ 79$

$51 \circ 49$

$77 \circ 69$

$80 \circ 90$

$39 \circ 27$

$12 \circ 33$

$25 \circ 52$

$40 \circ 10$

$69 \circ 19$

3 Colorea, en cada fila, el número que corresponda.

El número mayor

El número menor



4 Coloca los números y calcula

$67 - 21$


$78 - 47$

$$\begin{array}{r} 42 \\ 31 \\ - 13 \\ \hline \square \end{array}$$

$$\begin{array}{r} 41 \\ 25 \\ + 3 \\ \hline \square \end{array}$$

5 Resuelve.

La abuela de Adela tiene 59 años.
 Adela tiene 50 años menos que su abuela.
 ¿Cuántos años tiene Adela?



OPERACIÓN

Solución → _____

6 Lee y escribe los números hasta el 99 que correspondan.

Números pares con 8 decenas.

▶

Números impares con 9 decenas.

▶

7 ¿Cuántos puntos tienen en total los tres primeros equipos de esta liga? Observa el tablón y resuelve.

COLEGIO LA LUNA - FÚTBOL SALA	
Los tigres	13 puntos
Los linces	12 puntos
Las panteras	10 puntos
Los leones	9 puntos

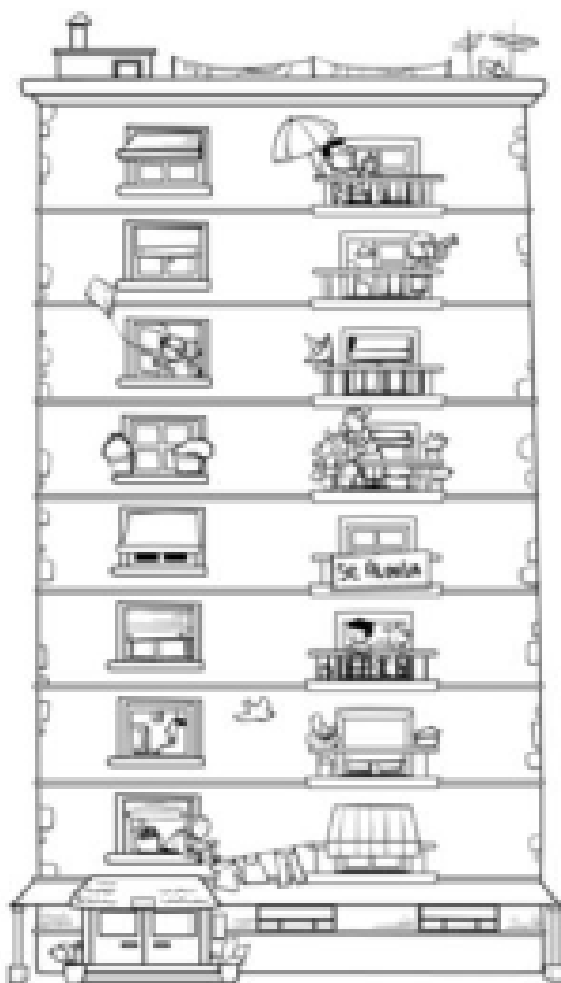
Datos ▶ , y

Operación ▶ _____




Solución ▶ 32

8 | ¿Qué piso es? Escribe el ordinal y cómo se lee.



<input type="text"/>	▶	<input type="text"/>
<input type="text"/>	▶	<input type="text"/>
<input type="text"/>	▶	<input type="text"/>
<input type="text"/>	▶	<input type="text"/>
<input type="text"/>	▶	<input type="text"/>
<input type="text"/>	▶	<input type="text"/>
<input type="text"/>	▶	<input type="text"/>
<input type="text"/>	▶	<input type="text"/>

9 | ¿Quién va delante? ¿Y detrás? Observa y escribe el nombre.



Detrás del 1.º



Detrás del 8.º



Delante del 4.º

